

**OPTION INTERNATIONALE DU BACCALAURÉAT  
SESSION 2019**

SECTION : ESPAGNOLE

ÉPREUVE : HISTOIRE - GÉOGRAPHIE

DURÉE TOTALE : 4 HEURES

Le candidat a le choix entre deux sujets **A et B** qu'il doit traiter, selon son choix, dans leur totalité.

Pour l'un des sujets, dans la première sous-partie, le candidat rédige un sujet de composition en histoire parmi deux propositions au choix et dans la seconde sous-partie, il traite un exercice de géographie à partir de document(s).

Pour l'autre sujet, dans la première sous-partie, le candidat rédige une composition en géographie parmi deux propositions au choix et dans la seconde sous-partie, il traite un exercice d'histoire à partir de document(s).

Chacune des deux disciplines compte pour la moitié des points dans la note finale.

*L'usage de la calculatrice et des dictionnaires est interdit.*

**OPTION INTERNATIONALE DU BACCALAURÉAT  
SESSION 2019**

SECTION : ESPAGNOLE

ÉPREUVE : HISTOIRE-GÉOGRAPHIE

DURÉE TOTALE : 4 HEURES

**SUJET A**

Le candidat devra traiter l'**UNE** des deux compositions  
et faire l'**exercice – étude critique de document(s)**.

*L'usage de la calculatrice et des dictionnaires est interdit.*

## PRIMERA PARTE: HISTORIA

**COMPOSICIÓN 1:** El Proyecto de una Europa política. Del Congreso de La Haya (1948) al Tratado de Maastricht (1992)

**COMPOSICIÓN 2:** Los gobiernos de la Democracia en España de 1982 hasta 2004.

## SEGUNDA PARTE: GEOGRAFÍA

**CROQUIS.** “Los espacios marítimos: aproximación geoestratégica.”

### Parte a

- Realice un croquis para mostrar “Los espacios marítimos: aproximación geoestratégica.” Incluyendo una leyenda ordenada y jerarquizada.
- Redacte un comentario de unas 15 líneas para justificar y explicar su croquis. ¿Qué elementos ha decidido destacar, cómo los ha destacado y por qué

### Parte b

- Empleando el croquis que ha realizado, el siguiente documento complementario y sus conocimientos, explique las tensiones existentes por el control de los espacios marítimos de Asia

### Documento :

Un conflicto marítimo.

[...]

Si hay un punto en el planeta donde EE UU y China, las dos grandes potencias del siglo XXI, pueden llegar a las manos, ése es el mar del Sur de China. Y basta mirar un mapa para comprender por qué. Que China sea tan contundente en sus reclamaciones territoriales en esas aguas es cuestión de política, sí, pero condicionada por la geografía. [...].

China dispone de unos 14.500 kilómetros de costa. Pero por el este se enfrenta a lo que llama la “primera línea de islas”: una cadena que comienza en la península coreana, continúa por Japón y Taiwán, sigue por Filipinas e Indonesia y se cierra en Australia. Todos —salvo Corea del Norte— países y territorios aliados de EE UU, y como tales susceptibles de cerrarle el paso en caso de conflicto.

Ante esta evidencia, la alternativa más viable para garantizar el acceso al océano Índico, al golfo Pérsico y los vitales suministros de petróleo es la salida por su costa meridional. Como ha escrito el estadounidense Robert D. Kaplan en *La venganza de la geografía*, el mar del Sur de China “desbloquea el Índico a China de la misma manera que el control del Caribe desbloqueó el Pacífico a EE UU en la época de la construcción del canal de Panamá”.

(...)

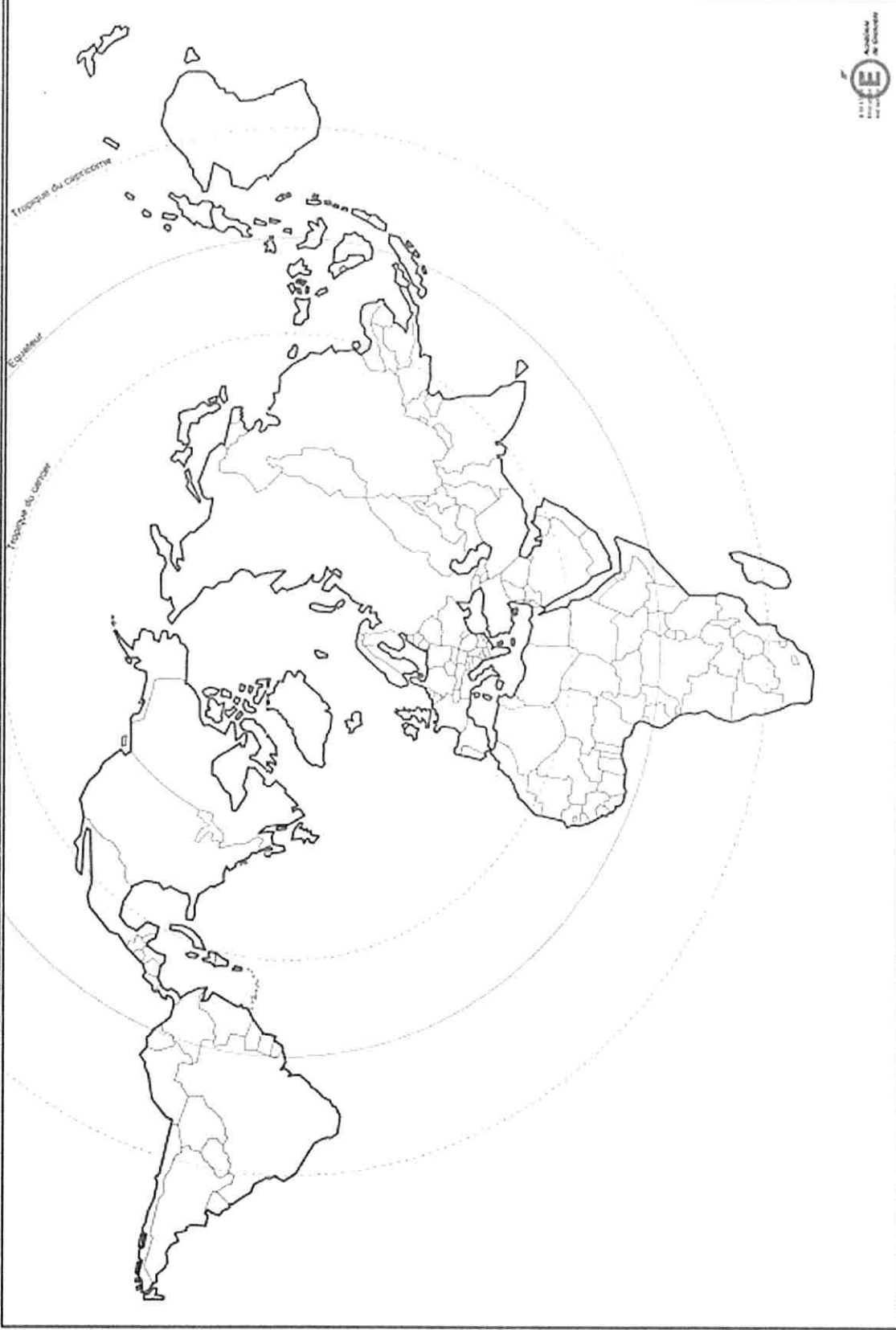
Siempre con el mapa en la mente, China ha construido una gran base marítima en Hainan y fabrica islas artificiales que puedan garantizar el suministro a 2.000 kilómetros de la costa continental china. Mientras, impulsado por la suspicacia hacia su gigantesco vecino, Vietnam ha estado haciendo guiños a EE UU [...]

Fuente: Macarena Vidal Lij , 20 MAY 2017 - 23:58 CEST


[https://elpais.com/internacional/2017/05/19/actualidad/1495193867\\_116822.html](https://elpais.com/internacional/2017/05/19/actualidad/1495193867_116822.html)

Annexe à rendre avec la copie

Titre :



NE PAS ÉCRIRE SUR CETTE PAGE











**Annexe à rendre avec la copie**

.....

.....

.....

.....

.....

.....

.....

.....

.....

.....

.....

.....

.....

.....

.....

**OPTION INTERNATIONALE DU BACCALAURÉAT  
SESSION 2019**

SECTION : ESPAGNOLE

ÉPREUVE : HISTOIRE-GÉOGRAPHIE

DURÉE TOTALE : 4 HEURES

**SUJET B**

Le candidat devra traiter l'**UNE** des deux compositions  
et faire l'**exercice – étude critique de document(s)**.

*L'usage de la calculatrice et des dictionnaires est interdit.*

## PRIMERA PARTE : GEOGRAFÍA

COMPOSICIÓN 1: Procesos actores y los flujos de la globalización

COMPOSICIÓN 2: Las Dinámicas territoriales de los Estados Unidos

## SEGUNDA PARTE: HISTORIA

**EJERCICIO:** De la muerte de Franco a la Constitución de 1978.

Analice los documentos poniéndolos en relación con su contexto histórico, detalle la información que aportan y explique su interés en el proceso de transición y consolidación democrática española.

### Documento 1

**Discurso televisivo de Adolfo Suárez el 10 de septiembre de 1976.**

"Buenas noches. Me presento ante todos ustedes para darles cuenta del proyecto de ley para la reforma política; para decirles, sencillamente, cómo propone el Gobierno que sea nuestro futuro y para convocar a todo el pueblo español a una tarea de protagonismo y solidaridad., [...]

Pienso que la democracia debe ser obra de todos los ciudadanos y nunca obsequio, concesión o imposición, cualquiera que sea el origen de ésta. Por eso, estamos convencidos que para su logro es preciso el concurso de cuantas fuerzas articulen el cuerpo nacional. [...]


Ante ese pueblo, cuya politización es la simple pero soberana politización de querer decidir su futuro y decidirlo en paz, en orden y seguridad, hemos querido comparecer hoy. Y repetir, una vez más, que el futuro no está escrito, porque sólo el pueblo puede escribirlo. Para ello tiene la palabra. El Gobierno que presido ha preparado los instrumentos para que esa palabra pueda expresarse con autenticidad. Para garantizar en definitiva, su soberanía. La soberanía del pueblo español."

Fuente: Diario *El País*, Sábado 11 de septiembre de 1976.

[https://elpais.com/diario/1976/09/11/espana/211240822\\_850215.html](https://elpais.com/diario/1976/09/11/espana/211240822_850215.html)

## Documento 2

Publicidad institucional previa a las primeras elecciones democráticas.



Fuente: Publicada en el diario *Sol de España* el 12 de junio de 1977. Hemeroteca del Archivo Provincial de Málaga.